

KIERUNEK ARCHITEKTURA I URBANISTYKA
TEST KWALIFIKACYJNY
 Z PREDYSPOZYCJI DO ZAWODU ARCHITEKTA
CZĘŚĆ I

GDAŃSK, 15 CZERWCA 2013, CZAS TRWANIA TESTU - 1.5 GODZINY

CZĘŚĆ I	ZADANIE		SUMA PKT	PODPISY
	1	2		
SUMA PUNKTÓW CZĘŚCI I TESTU				SPRAWDZENIE - PODPISY

TABELA PUNKTACJI. WYPEŁNIA WYDZIAŁOWA KOMISJA EGZAMINACYJNA

MAX. 30 PKT

OPIS DO ZADANIA 1 I ZADANIA 2

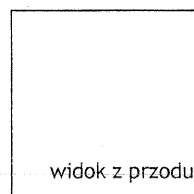
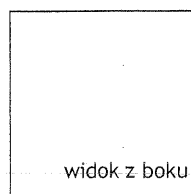
Postanowiłeś wziąć udział w konkursie na wykonanie zestawu mebli ogrodowych (2 fotele, stół, siedzisko dla 2 osób). Masz do dyspozycji płyty z drewna klejonego o wymiarach 100 x 100 x 5 cm i urządzenie do ich przecinania pozwalające na uzyskanie elementu o minimalnej szerokości 5 cm.

ZADANIE 1

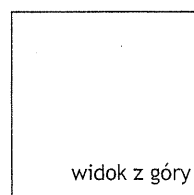
Korzystając z podanej obok siatki o module równym 10 cm narysuj widok z boku, widok z przodu i widok z góry wymyślnego fotela (zastosuj kompozycję zgodną z podanym poniżej schematem). Liniami przerywanymi narysuj niewidoczne krawędzie. Podaj podstawowe wymiary mebla. Określ w miejscu przeznaczonym na komentarz sposób łączenia jego elementów.

Zadanie ma na celu sprawdzenie:

- umiejętności budowania prostej formy,
- zdolności widzenia przestrzennego,
- świadomości podstawowych zasad ergonomii.



komentarz



punkty


15 pkt

ZADANIE 2

Wykonaj światłocieniowy rysunek kompletu mebli ustawionego na podeście drewnianym o wymiarze 500 x 300 cm i grubości 15 cm, przylegającym do ściany z nieotynkowanej cegły. Wysokość ściany wynosi 240 cm.

Zadanie ma na celu sprawdzenie:

- zdolności widzenia przestrzennego,
- umiejętności zakomponowania formy złożonej,
- świadomości podstawowych zasad ergonomii,
- umiejętności stosowania środków wyrazu - światłocienia i faktury,
- umiejętności zakomponowania rysunku.



punkty	
--------	--

15 pkt

CZĘŚĆ II	ZADANIE			SUMA PKT	PODPISY
	1	2	3		
SUMA PUNKTÓW CZĘŚCI II TESTU					SPRAWDZENIE - PODPISY

TABELA PUNKTACJI. WYPEŁNIA WYDZIAŁOWA KOMISJA EGZAMINACYJNA

MAX. 30 PKT

ZADANIE 1

Planowane jest wydanie dwutomowego albumu poświęconego architekturze domów jednorodzinnych. Oba tomy będą się składać z czterech zeszytów oznaczonych kwadratowymi znakami graficznymi odnoszącymi się do miejsca lokalizacji domów lub materiału, z jakiego zostały zbudowane.

TOM 1 - LOKALIZACJA

- DOM NA WSI
- DOM W MIEŚCIE
- DOM NAD MORZEM
- DOM NA PUSTYNI

TOM 2 - MATERIAŁ

- DOM Z DREWNA
- DOM ZE STALI
- DOM ZE SZKŁA
- DOM Z CEGŁY

We wskazanym obok miejscu wykonaj projekt oznaczeń graficznych dla wybranego tomu. Wybór zaznacz kółkiem.

Zadbaj o czytelność skojarzeń i syntetyczną formę graficzną przekazu.

Zadanie ma na celu sprawdzenie:

- umiejętności budowania nieskomplikowanej kompozycji graficznej,
- umiejętności syntetycznego przekazu treści pomysłu.

punkty	
--------	--

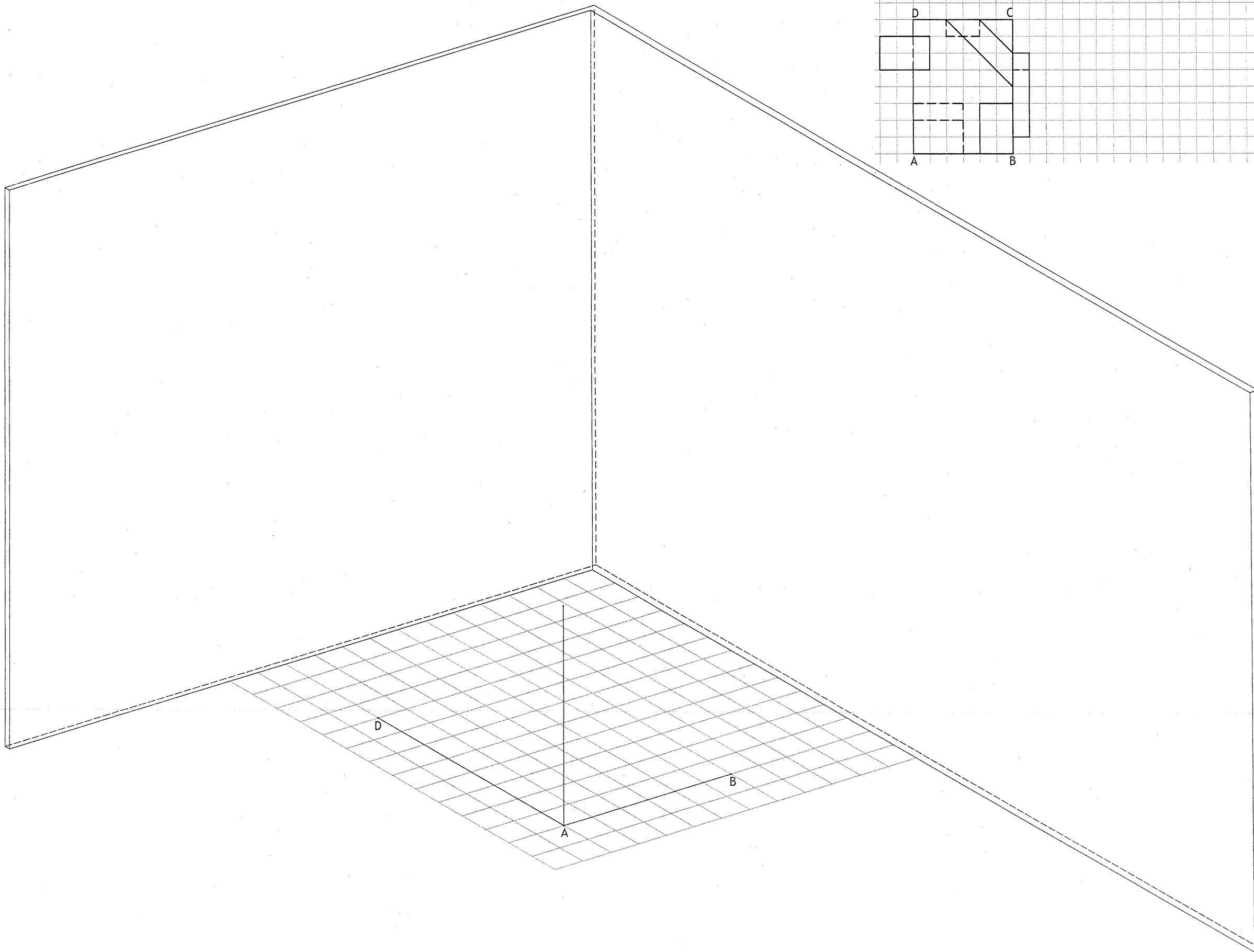
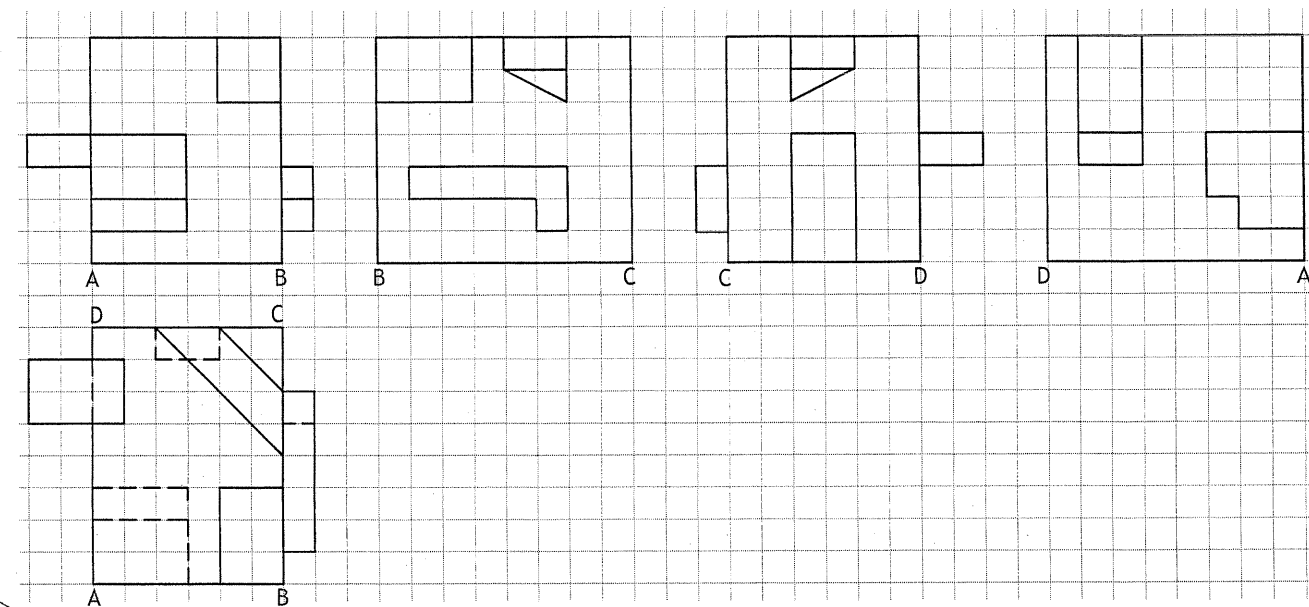
10 pkt

ZADANIE 2

Na podstawie podanych obok widoków narysuj poniżej aksonometrię bryły oraz jej odbicia w dwóch taflach luster.

Zadanie ma na celu sprawdzenie:

- umiejętności logicznego myślenia i analizowania informacji,
- wyobraźni przestrzennej.



punkty	
--------	--

10 pkt

ZADANIE 3

Narysuj w widoku perspektywicznym współczesny obiekt architektoniczny autorstwa uznanego światowego architekta, który wywarł na tobie szczególne wrażenie i przyczynił się do rozwinięcia twoich zainteresowań sztuką architektury.

Podaj nazwę obiektu, nazwisko jego projektanta i przybliżoną datę powstania. Uzasadnij wybór w krótkim opisie.

Zadanie ma na celu sprawdzenie:

- zainteresowań architekturą,
- wyobraźni przestrzennej,
- umiejętności zakomponowania rysunku.

punkty	
--------	--

10 pkt